

**TEST PENTRU PROBA SUPLIMENTARĂ DE ADMITERE ÎN ÎNVĂȚĂMÂNTUL
PROFESIONAL. MODEL_2024**

Pentru rezolvarea corectă a tuturor cerințelor se acordă 90 puncte.

Din oficiu se acordă 10 puncte.

Timpul efectiv de lucru este de 60 minute.

📖 Subiectul 1

30 puncte

- Crezi că este important să îți alegi în viață profesia care ți se potrivește? Motivează-ți răspunsul în 20-50 de cuvinte.
- Redactează o cerere prin care să soliciți înscrierea în clasa a IX-a de învățământ profesional.

📖 Subiectul 2

10 puncte

Calculați:

- $105 + (12-5) \cdot 8 =$
- $5 + 4 \cdot 9 - 7 \cdot 6 =$

📖 Subiectul 3

20 punct

Identificați sculele și aparatele de măsurat, din figurile de mai jos

1



2



3



4




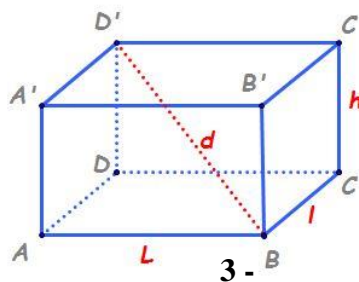
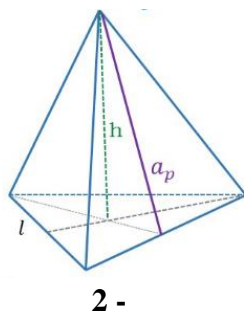
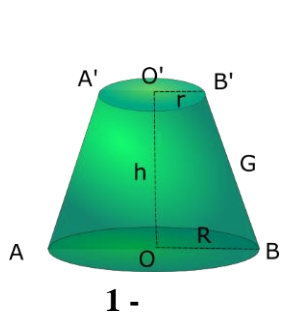
5



 **Subiectul 4**

12 puncte

Identificati corpurile geometrice de mai jos:



 **Subiectul 5**

18 puncte

O cameră are formă dreptunghiulară cu lungimea 3 m și lățimea 2 m.

- Care este suprafața (aria) camerei ?
- Camera se plachează cu gresie de formă pătrată cu latura 0,5 m. De câte plăci de gresie avem nevoie ca să placăm camera ?