

**TEST PENTRU PROBA SUPLIMENTARĂ DE ADMITERE ÎN
ÎNVĂȚĂMÂNTUL PROFESIONAL
MODEL**

**Pentru rezolvarea corectă a tuturor cerințelor se acordă 90 puncte.
Din oficiu se acordă 10 puncte.
Timpul efectiv de lucru este de 60 minute.**

📖 Subiectul 1

30 puncte

- a) Crezi că este important să îți alegi în viață profesia care ți se potrivește ? Motivează-ți răspunsul în 20-50 de cuvinte.
- b) Narează, în 50-100 de cuvinte, o întâmplare din viața ta.

📖 Subiectul 2

10 puncte

Calculați :

- a) $17 - (11-8) \times 6 =$
- b) $6 + 6 : 6 =$

📖 Subiectul 3

20 punct

Identificați sculele și aparatele de măsurat, din figurile de mai jos



4



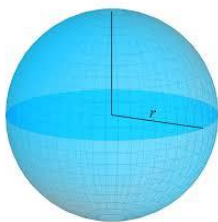
 **Subiectul 4**

5

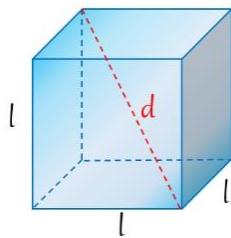


12 puncte

Identificati corpurile geometrice de mai jos:



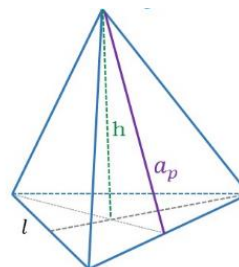
1 -



2 -



3 -



4 -

 **Subiectul 5**

18 puncte

Un rezervor are formă de paralelipiped dreptunghic, cu lungimea bazei de 4 m, lățimea bazei de 3 m și înălțimea de 12 m.

- Calculați diagonala paralelipipedului?
- Câți litri de apă încap în rezervor?